



وزارة التربية

الإدارة العامة لمنطقة مبارك الكبير التعليمية

كنترول مبارك الكبير

امتحانات الفصل الدراسي الأول
٢٠٢٠ / ٢٠١٩

الخامس	الصف
العلوم	المادة



المجال الدراسي : علوم

وزارة التربية

الزمن : ساعة واحدة

الإدارة العامة لمنطقة مبارك الكبير التعليمية

عدد الأوراق : ٥

التوجيه الفني للعلوم

امتحان نهاية الفترة الدراسية الأولى في مادة العلوم

للف الخامس الابتدائي

العام الدراسي ٢٠١٩ | ٢٠٢٠ م

نموذج إجابة

أولاً : الأسئلة الموضوعية (٢٤ درجة)

السؤال الأول : اختر الإجابة الصحيحة علمياً لكل من العبارات التالية بوضع

علامة (✓) في المربع المقابل لها:

١- تستغرق الأرض لتدور حول نفسها دورة كاملة:

①

٣٤ ساعة

٣٠ ساعة

٢٤ ساعة

٢٠ ساعة

٢- يوجد غاز الأكسجين في الغلاف الجوي بنسبة :

①

٥٠%

٢١%

١٥%

١٠%

٣- تطفو مكونات الدم في سائل أصفر هو :

①

خلايا الدم البيضاء

خلايا الدم الحمراء

الاجسام المضادة

البلازما

٤- الوعاء الدموي الذي ينقل الدم من القلب إلى أنحاء الجسم المختلفة هو :

①

الشعيرات الدموية

الشريان

الصفائح الدموية

الوريد

٥- الإجراءات التي يمكن تقديمها للمصاب في مكان الحادث قبل الوصول إلى المركز الصحي :

①

إسعافات الاولية

تحريك المصاب

إطعام المصاب

تمارين رياضية



السؤال الثاني: أكتب بين القوسين كلمة (صحيحة) للعبارة الصحيحة وكلمة (خطأ) للعبارة غير الصحيحة في كل مما يأتي:

٥

- ١٨ ص
١٧ ص
٢٥ ص
٤٤ ص
٣٥ ص
١. النجوم ينبعث منها وميض لأنها ذاتية الإضاءة . (.....صحيحة.....) ①
 ٢. تنتمي الشمس والأرض وبقية الكواكب إلى مجرة درب التبانة . (.....صحيحة.....) ①
 ٣. كوكب المريخ هو أكبر كواكب المجموعة الشمسية. (.....خطأ.....) ①
 ٤. استخدام المبيدات الحشرية يؤدي إلى زيادة تلوث الهواء الجوي . (.....صحيحة.....) ①
 ٥. في عملية الزفير يهبط الحجاب الحاجز إلى أسفل فيزيد حجم الرئتين. (.....خطأ.....) ①

السؤال الثالث : في الجدول التالي اختر العبارة من المجموعة (ب) وأكتب رقمها أمام

ما يناسبها من عبارات المجموعة (أ) :

٤

الرقم	المجموعة (أ)	المجموعة (ب)
(٣)	أكثر طبقات الغلاف الجوي برودة وتحمي الأرض من الشهب القادمة من الفضاء ①	١. ستراتوسفير ٢. تيرموسفير ٣. ميزوسفير
(٢)	أكثر طبقات الغلاف الجوي حرارة وتعكس موجات الراديو ①	

٣٧ ص

الرقم	المجموعة (أ)	المجموعة (ب)
(١)	نسيج قوي مرن يمسك العظام عند المفاصل. ①	١. الرباط ٢. العمود الفقاري ٣. الغضاريف
(٢)	تمنع احتكاك العظام ببعضها . ①	

٦٦ ص



السؤال الرابع : أكتب بين القوسين الإسم أو المصطلح العلمي الدال على كل

١٠

عبارة من العبارات التالية :-

١. كل جسم موجود في الفضاء الخارجي . (الجسم الفلكي / السماوي) ٣٦ ص
٢. غاز ينشأ بتأثير الأشعة فوق البنفسجية ويتكون من ثلاث ذرات أكسجين . (الأوزون) ٤ ص
٣. ينتج عن فقدان الدم من الجهاز الدوري بسبب تمزق الاوعية الدموية . (النزيف) ١١ ص
٤. يحدث نتيجة فقدان الشخص لوعيه تماما . (الدغاء) ١٧ ص
٥. ظاهرة علمية تتمثل بازياد حرارة الغلاف الجوي للكرة الأرضية . (الاحتباس الحراري) ٩ ص

ثانياً: الأسئلة المقالية (١٦ درجة)

٣

السؤال الخامس : اقرأ العبارات التالية ثم صحح ما تحته خط لتصبح صحيحة علمياً :



١. الغلاف الجوي يحيط بالأرض بسبب وجود الجبال . (الجاذبية الأرضية) ٤٣ ص
٢. الماء يغطي كوكب الأرض بنسبة تبلغ ٣٠ % . (٧١٪) ٤٤ ص
٣. الجهاز الهضمي يزود الخلايا بالأكسجين ويخلص الجسم من ثاني أكسيد الكربون . (الجهاز التنفسي) ٥٨ ص

السؤال السادس :

٢

- اذكر بعض الخطوات التي يجب اتباعها عند إصابة زميلك بجرح بسيط أثناء اللعب :



١. وضع ضمادة على الجرح / وضع شاش مطبق ١٢ ص
٢. غسل الجرح / ربط الجرح / تغطية الجرح ١٥ ص

السؤال السابع : أكمل جدول المقارنة التالية :

٢

أوجه الاختلاف	طبقة تروبوسفير	طبقة ستراتوسفير
وجود الظواهر الجوية	تحدث فيها معظم الظواهر الجوية كالأمطار والغيوم والهباع	تخلو من الظواهر الجوية لا توجد أمطار ولا هباع

٣٧ ص

السؤال الثامن : علل لما يأتي تعليلاً علمياً سليماً:

٢

١- يمتاز كوكب عطارد بارتفاع درجة حرارته .
بأنه قريب جداً من الشمس


٣٤ ص

٢- عندما تتمرن يخفق قلبك خفقاناً سريعاً .
لأنه العضلات تحتاج إلى المزيد من الأكسجين والمغذيات


٣٦ ص

السؤال التاسع: اربط بين ما يلي :

١



الكواكب



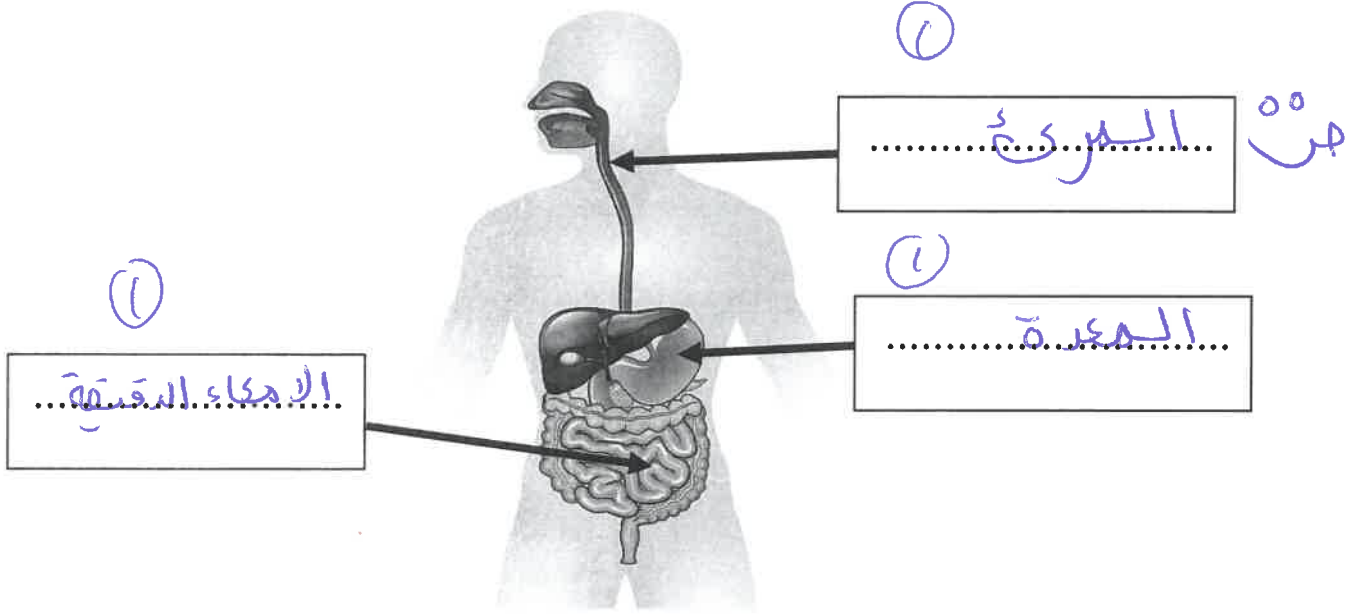
٣١ ص

تدور الكواكب حول الشمس في مدارات ذات شكل بيضاوي
أو اهليلجي

السؤال العاشر : أكتب البيانات على الرسوم التالية:

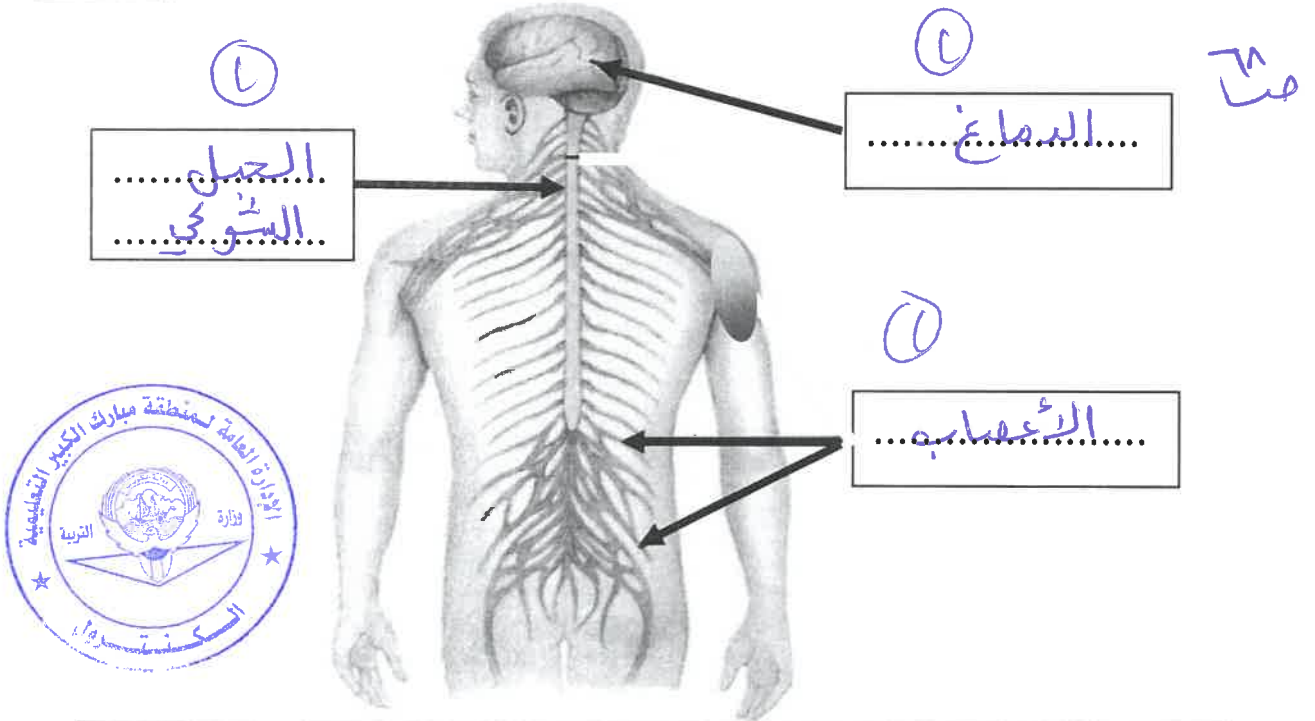
٣

(أ) - الرسم التالي يوضح الجهاز الهضمي في جسم الإنسان



(٢) - الرسم التالي يوضح الجهاز العصبي في جسم الإنسان

٣



انتهت الأسئلة

